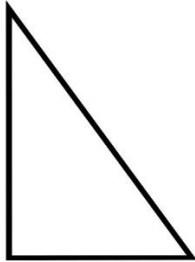
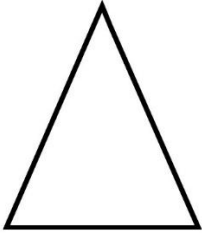
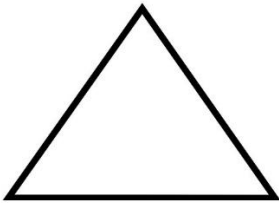
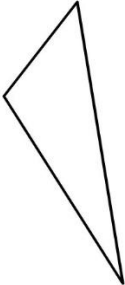


5. Triangle rectangle isocèle de 4 cm de côté.

Exercice 3 : Identifier le type de triangle

Observe les figures ci-dessous et écris le nom de chaque type de triangle :
Équilatéral – Isocèle – Quelconque – Rectangle – Rectangle isocèle.

			
triangle :	triangle :	triangle :	triangle :

Exercice 4 : Vérification des propriétés

Trace un triangle quelconque puis mesure ses côtés avec la règle.

Note les longueurs et indique s'il possède :

- des côtés égaux ;
- un angle droit.

Exercice 5 : Compléter les phrases

Complète avec le mot qui convient : équilatéral, isocèle, rectangle, quelconque, rectangle isocèle.

- a) Un triangle a trois côtés égaux.
- b) Un triangle a deux côtés égaux.
- c) Un triangle a un angle droit.
- d) Un triangle n'a aucun côté égal.
- e) Un triangle a un angle droit et deux côtés égaux